

19. Aşağıdakilerden hangisi Gulfstream sıcak su akıntısının etkilediği ülkelerden değildir?
 A) Portekiz
 B) Finlandiya
 C) Norveç
 D) Hollanda
 E) İngiltere
20. Gazimağusa ilçesine bağlı olmasına rağmen Beşparmak dağlarının kuzey tarafında yer alan yerleşim yeri aşağıdakilerden hangisidir?
 A) Esentepe
 B) Mersinlik
 C) Tatlısu
 D) Büyükkonuk
 E) Balalan
21. Felsefede her soru yeni bir cevaba; her cevap yeni bir soruya kapı açar.
 Bu cümleye göre, felsefe için önemli olan nedir?
 A) Evrensel doğrulara ulaşmak
 B) Bilinenleri başkalarıyla paylaşmak
 C) Sürekli olarak sormak, sorgulamak
 D) Sorulardan çok cevaplara yönelmek
 E) Çözümsüz sorulardan vazgeçmek
22. Önemli olan, felsefe tarihinde kendisine yer bulmuş olan filozofların görüşlerini tek tek bilmek değil, bir felsefi soru sorabilmek, eleştirmek, soruya tutarlı bir yanıt verebilmek; kısaca felsefe yapmaktır.
 Bu cümlede, felsefe için aşağıdakilerden hangisinin önemli olmadığı vurgulanmıştır?
 A) Farklı düşüncelere açık olma
 B) Farklı sorulara yönelme
 C) Felsefi bilgi birikimine sahip olma
 D) Herşeyin nedeninin sorgulanması
 E) Eleştirel düşünce
23. Felsefe ile ilgili aşağıda verilen bilgilerden hangisi yanlıştır?
 A) Bir düşünce etkinliğidir.
 B) Hem olanı hem de olması gerekeni inceler.
 C) Kendisine konu edindiği herşeyi eleştiri süzgecinden geçirir.
 D) Çoğunluğun benimsediği görüşlere uyma eğilimidir.
 E) İnsan ve insan yaşantısıyla ilgili her şeyi inceler.
24. İnsan için önemli olan yalnızca felsefe okumak ve felsefe bilmek değildir; felsefe yapmaktır, felsefi tutum takınabilmektir. Buna göre, felsefi düşünce gerektiren bir problem karşısında kişinin yaklaşımı ne olmalıdır?
 A) Eleştirmek ve sorgulamak
 B) Bilimsel yöntemlere başvurmak
 C) Genel görüşleri benimsemek
 D) Olgularla uyumunu denetlemek
 E) Filozofların görüşlerini öğrenmek
25. -- Bir felsefi düşünce oluşturucusunun kişiliğini yansıtır.
 -- Felsefe, kişisel düşüncenin yansımasıdır.
 -- Kişisel farklılıklar felsefe alanının temel belirleyicilerindedir.
 Bu görüşlerin ortak vurgusu aşağıdakilerden hangisidir?
 A) Felsefi düşünce kendi üzerinde yoğunlaşır.
 B) Felsefe, yaratıcısının güçlü izlerini taşır.
 C) Felsefe etkinliği çağın koşullarına bağlıdır.
 D) Felsefi görüşler bilimsel olmalıdır.
 E) Filozof çoğunluğun benimsediği görüşlere uyar.

Sosyal Bilimler Testi sona erdi

İNGİLİZCE DİL TESTİ

Bu testi İD puanı gerektiren program tercih eden adaylar cevaplandıracaktır.
Bu test toplam 25 soru içermektedir.

İlk 13 soruda, cümlede boş bırakılan yerlere uygun düşün kelime veya ifadeyi bulunuz.

1. In 331 BC Alexander the Great defeated Darius III in the Battle of Gaugamela, and was _____ crowned "King of Asia".
A) subsequently B) intimately
C) frantically D) abusively
E) brutally
2. At the centre of _____ tooth is an area with nerves, arteries and veins called the dental pulp.
A) all B) whole
C) both D) each
E) several
3. Chemical weapons are classified _____ weapons of mass destruction by the United Nations, and their production and stockpiling was outlawed by the Chemical Weapons Convention _____ 1993.
A) into / of B) by / until
C) as / in D) with / as of
E) through / to
4. If you happen to be one of those people who suffer from frequent headache, it is important to know _____ type of headache you are suffering from.
A) how B) what
C) where D) whose
E) which one

5. _____ the 206 bones _____ the average adult human body, 106 are found in the hands and feet.
A) Off / by B) From / on
C) Among / at D) Beyond / at
E) Of / in
6. The amount of sleep an individual _____ varies from person to person, but most adults average eight hours of sleep.
A) destroys B) identifies
C) converts D) requires
E) arises
7. _____ fast food is gaining popularity and many major fast food chains have opened all over Turkey, Turkish people still rely primarily on the rich and extensive dishes of the Turkish cuisine.
A) Despite B) Even so
C) Even though D) Thanks to
E) As a consequence of
8. Until the 19th century, most people _____ that the earth _____ just a few thousand years ago.
A) believed / was created
B) had believed / had been created
C) had believed / had created
D) believed / has been created
E) have believed / has been created

9. Over the past 25 years or so, there _____ a sharp increase in the popularity of parachuting as a sport.
- A) had been B) has been
C) will have been D) were
E) may have been
10. A number of cities are competing to be the one _____ the next Olympics will be held.
- A) when B) which
C) why D) what
E) where
11. It is almost impossible to figure out _____ he is talking about. He speaks so fast!
- A) whatever B) where
C) when D) why
E) whom
12. I will send you the products _____ you send us the payment in advance.
- A) if only B) and
C) only if D) so
E) but for
13. Do you remember the person to _____ you sold your old books and papers?
- A) who B) whom
C) that D) whose
E) when

Soru 14 – 18: Aşağıdaki parçada numaralanmış yerlere uygun düşen sözcük ya da ifadeyi bulunuz.

(14) _____ a break with Ottoman tradition, Suleiman married a harem girl, Roxelana, (15) _____ became Hürrem Sultan; her intrigues (16) _____ queen in the court and power (17) _____ the Sultan made her quite renowned. Their son, Selim II, (18) _____ Suleiman following his death in 1566 after 46 years of rule.

14. A) On B) In
C) With D) For
E) At
15. A) who B) which
C) when D) where
E) for which
16. A) as if B) likewise
C) just as D) like
E) as
17. A) from B) for
C) over D) at
E) onwards
18. A) had succeeded
B) has succeeded
C) had been succeeded
D) succeeded
E) has been succeeded

19. – 21. soruları aşağıdaki parçaya göre cevaplayınız.

The collapse of communism in Albania came later and was more chaotic than in other East European countries and was marked by a mass migration of refugees to Italy and Greece in 1991 and 1992. The democratically elected government that assumed office in April 1992 launched an ambitious economic reform program to halt economic deterioration and put the country on the path toward a market economy. Key elements included price and exchange system liberalization, fiscal consolidation, monetary restraint, and a firm income policy. These were complemented by comprehensive package of structural reforms including privatization, enterprise and financial sector reform, and creation of the legal framework for a market economy and private sector activity. Most agriculture, transport, services, and small and medium-sized enterprises were privatized. In 1995, the government began privatizing large state enterprises. Since prices were also “liberalized”, however, economic hardship continued for much of the population.

19. According to the passage, as a result of the transformation in Albania, _____.
- A) people realised how happy they were under the previous regime
- B) the rate of emigration from Greece and Italy to this country increased
- C) the open-market economy became a thing of the past
- D) a huge number of people left the country for other European countries
- E) the government was forced to suspend the economic reform program

20. One point made in the passage is that when the new government came to power in 1992, _____.
- A) the economic system had already privatised large state enterprises
- B) the economy of the country was in an ongoing process of worsening
- C) they were surprised to see how the resources of the country had been wasted
- D) the members of the previous government were apprehended
- E) the ambitious economic reform program was suspended
21. The author of the passage suggests that most Albanians _____.
- A) are still poor as they didn't give the support that the government desperately needed
- B) are still deprived of their democratic rights despite the collapse of communism
- C) haven't benefited from the economic transformation because of the free prices
- D) are in favor of more privatisation so that they get even richer
- E) don't want the government to give up the fight for freedom

22. ve 23. sorularda verilen İngilizce cümleye anlamca en yakın Türkçe cümleyi bulunuz.

22. According to the regulation made last year, all insurance companies are required to reinsure thirty percent of each policy.
- A) Geçen yıl yeni bir düzenleme yapıldı ve buna göre, tüm sigorta şirketleri, poliçelerin yüzde otuzunu yeniden sigortalamakla yükümlüdürler.
- B) Geçen yıl yapılan düzenlemede de belirtildiği gibi, her sigorta şirketi, poliçelerinin yüzde otuzunu yeniden sigortalamak zorundadır.
- C) Geçen yıl yapılan düzenlemeye göre, tüm sigorta şirketleri, her poliçenin yüzde otuzunu yeniden sigortalamakla yükümlüdür.**
- D) Geçen yıl çıkartılan bir kanuna göre, sigorta şirketlerinin, her bir poliçenin yüzde otuzunu yeniden sigortalamaları gerekiyor.
- E) Geçen yılki düzenlemeye göre, her sigorta şirketi, poliçenizin yüzde otuzunu yeniden sigortalamayı garanti etmek zorundadır.

23. The researcher, conducting the study examining the effects of computers on writing quality, concluded that computer use neither sped up nor slowed down writing.
- A) Bilgisayarın yazı kalitesi üzerindeki etkilerini inceleyen araştırmacı, bilgisayarın yazmayı ne hızlandırdığı ne de yavaşlattığı sonucuna varmak üzere şartlanmıştı.
- B) Bilgisayarın yazı kalitesi üzerindeki etkilerini inceleyen araştırmacı, yazmayı ne hızlandırabilirdi ne de yavaşlatabildi.
- C) Araştırmacılığın yazı kalitesi üzerindeki etkilerini inceleyenler, bilgisayarın yardımıyla yazmayı hızlandırmanın mümkün olabileceği sonucuna vardılar.
- D) Bilgisayarın yazı kalitesi üzerindeki etkilerini inceleyen çalışmayı yürüten araştırmacı, bilgisayarın yazmayı ne hızlandırdığı ne de yavaşlattığı sonucuna vardı.**
- E) Çeşitli çalışmalar yürüten araştırmacı, bilgisayarın yazı kalitesi üzerindeki etkilerini incelemek istiyordu, fakat ne çok acele etti, ne de ağırdan aldı.

24. ve 25. sorularda verilen Türkçe cümleye anlamca en yakın İngilizce cümleyi bulunuz.

24. Ağırılık çalışması, işlevsel faydalar sağlamanın yanında, genel vücut sağlığına da katkıda bulunabilir.

- A) **As well as providing functional benefits, weight training can contribute to overall body health.**
- B) In addition to providing functional benefits, weight training has contributed to my overall body health.
- C) Not only does weight training contribute to body health, but also provides functional uses.
- D) Weight training provides functional benefits, and as a result contributes to overall body health.
- E) The claim that weight training contributes to overall body health can be explained with its functional benefits.

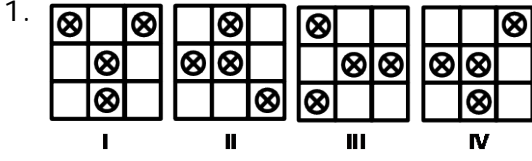
25. Bir şeyi unutmak, hala hafızada bir yerde bulunan bilgiyi geri çağırılmamak anlamına gelir.

- A) Forgetting something means an ability to use the information that is lost somewhere in the memory.
- B) In order not to forget something, you shouldn't retrieve the information that is still stored in the memory.
- C) Forgetting something means an inability to retrieve the information, although it is somewhere in the memory.
- D) Forgetting something retrieves the information that is still stored somewhere in the memory.
- E) **Forgetting something means an inability to retrieve the information that is still stored somewhere in the memory.**

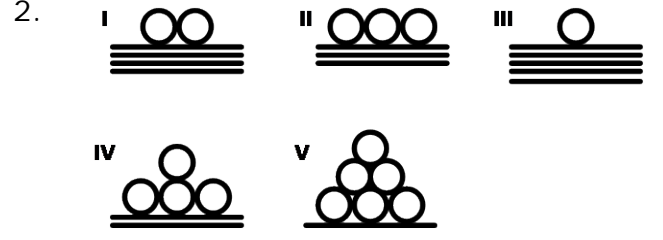
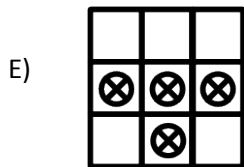
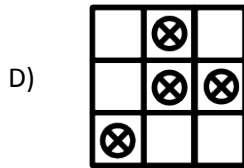
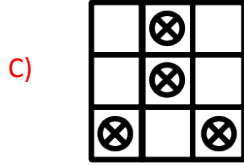
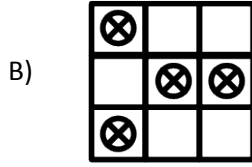
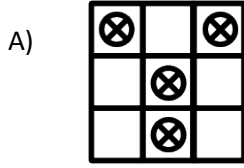
İngilizce Dil Testi Sona Erdi

GÖRSEL YETENEK TESTİ

Bu testi GY-1 ve GY-2 puanı gerektiren program tercih eden adaylar cevaplandıracaktır.
Bu test toplam 25 soru içermektedir.

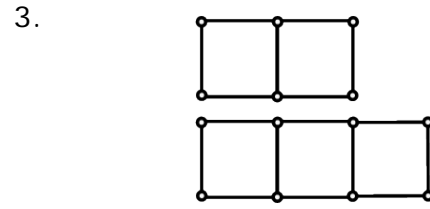


Yukardaki şekil dizisi bir kurala göre oluşturulmuştur. Bu kurala göre V. Şekil, aşağıdakilerden hangisidir?



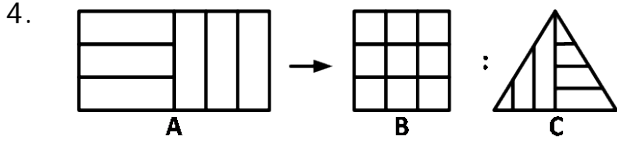
Yukarıdaki şekillerden biri, bir özellikten dolayı diğerlerinden farklıdır. Farklı olan bu şekil hangisidir?

- A) I
B) II
C) III
D) IV
E) V

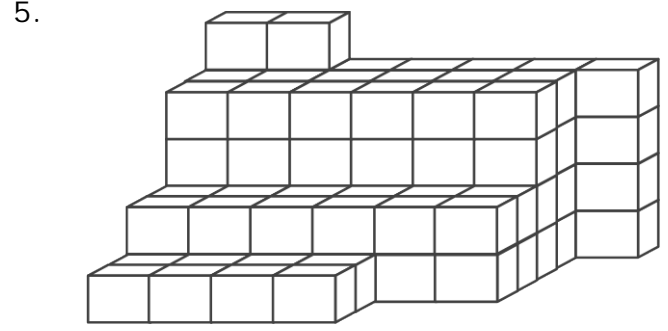
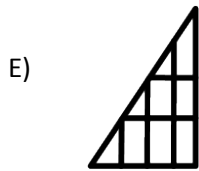
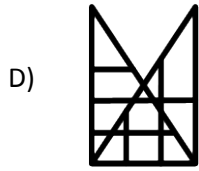
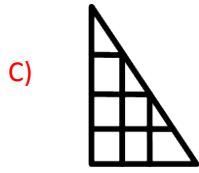
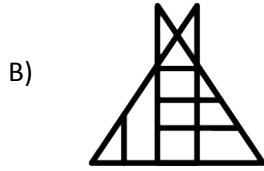
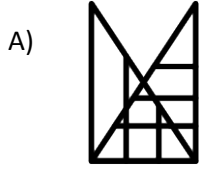


Aynı uzunlukta kibrit çöpleri kullanılarak 1 x 2 birim karelik bir şekil 7 çöple, 1 x 3 birim karelik bir şekil ise 10 çöple oluşturulmuştur. Buna göre, 1 x 20 birim karelik bir şekil kaç kibrit çöpüyle oluşturulabilir?

- A) 60
B) 61
C) 64
D) 67
E) 70

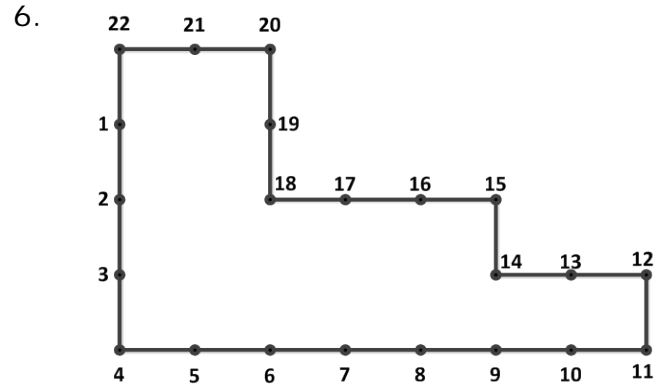


A şekli ile B şekli arasında bir ilişki vardır. Aynı ilişki C şekli ile aşağıdakilerden hangisinin arasında vardır?



Yukarıdaki şekil birbirine eş küplerin üst üste yerleştirilmesi ile oluşturulmuştur. Buna göre bu şekilde kaç tane küp vardır?

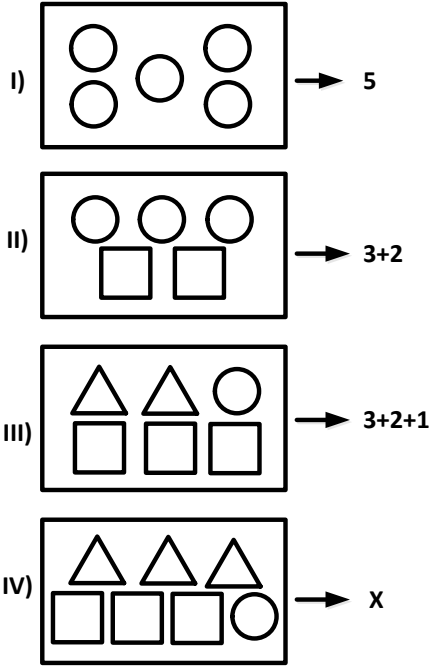
- A) 106
B) 107
C) 108
D) 109
E) 110



Yukarıdaki şekilde gösterilen düzlemin çevresi eşit aralıklarla numaralandırılmıştır. Buna göre düzlemin, alanları eşit 4 parçaya bölünmesi için hangi noktaların doğru ile birleştirilmesi gerekir?

- A) 2 – 8 / 2 – 18 / 8 – 17
B) 2 – 18 / 6 – 18 / 9 – 14
C) 6 – 22 / 6 – 18 / 9 – 18
D) 2 – 18 / 6 – 18 / 8 – 16
E) 7 – 17 / 2 – 18 / 3 – 6

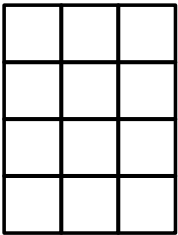
7.



Yukarıdaki şekiller ve karşısındaki sayılar arasında bir ilişki vardır. Bu ilişkiye göre X sayısı aşağıdakilerden hangisidir?

- A) 3 + 2 + 2
 B) 3 + 3 + 1
 C) 3 + 3 + 2
 D) 1 + 1 + 1
 E) 6 + 1 + 1

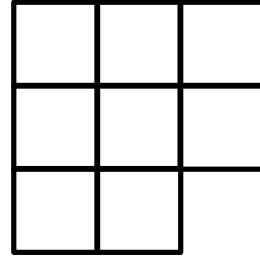
8.



Yandaki şekil, kenar uzunlukları 1 cm olan, birbirine eş 12 tane kareye bölünmüştür. Bu şekilde, çevre uzunluğu 8 cm olan kaç tane kare vardır?

- A) 8
 B) 6
 C) 5
 D) 4
 E) 3

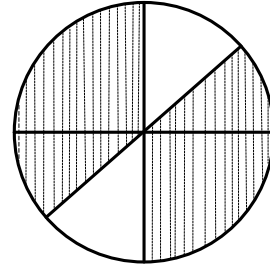
9.



Eş karelerin yapıştırılması ile oluşturulan yukardaki şekilde yapıştırma sayısı kaçtır?

- A) 7
 B) 8
 C) 9
 D) 10
 E) 11

10.



Yukarıda verilen daire, önce 4 eşit parçaya bölündükten sonra, elde edilen dört parçadan ikisi ikiye eşit parçaya bölünmüştür. Buna göre, taralı olmayan bölge, dairenin alanının yüzde kaç olur?

- A) % 15
 B) % 20
 C) % 25
 D) % 30
 E) % 75

11.




Yukarıda verilen küplerden oluşan prizmanın, bu bakış açısından görülmeyen kaç tane küp yüzeyi vardır?

- A) 17 B) 34
C) 46 D) 24
E) 74

12. Aşağıdaki şifrelerden hangisi "KANARYA" kelimesinin şifresi olabilir?

- A) \triangle \square \circ \square \star \square \circ
B) \circ \square \bullet \square \star \circ \square
C) \star \circ \square \circ \circ \square \circ
D) \triangle \circ \square \circ \circ \bullet \circ
E) \square \circ \square \triangle \square \star \square

13.



Şekildeki gibi kareler oluşturan 9 noktanın 4'ünden geçecek şekilde yarıçapları farklı olan kaç tane çember çizilebilir?

- A) 2 B) 3
C) 4 D) 5
E) 6

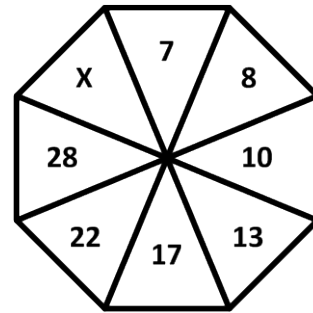
14.

	p	r	s	t	v
a					
b					
c					
d					
e					

Yukarıdaki şekilde önce p sütunu r sütunu üzerine, sonra e satırı d satırı üzerine, son olarak da d satırı c satırı üzerine katlanıyor. Bu katlamaların sonunda elde edilen yeni şekilde kaç kare vardır?

- A) 9
B) 12
C) 16
D) 18
E) 20

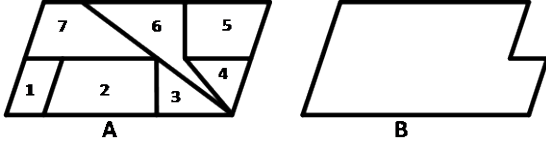
15.



Yukarıdaki şekilli dizide sayılar bir kurala göre oluşturulmuştur. Bu kurala göre X yerine aşağıdakilerden hangisi getirilmelidir?

- A) 35
B) 36
C) 37
D) 38
E) 39

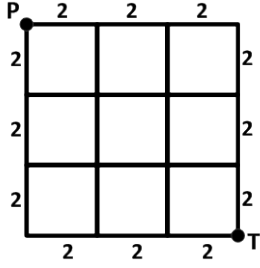
16.



Yukarıdaki B şekli, A şeklinden kaç numaralı parçanın çıkarılmasıyla elde edilir?

- A) 1
- B) 2
- C) 3
- D) 4
- E) 5


17.



Yukarıdaki şekil bir kenarının uzunluğu 2 m olan karelerden oluşmuştur. P'den T'ye her kenar ve köşeden en fazla bir kez geçmek şartıyla, en çok kaç metre yol alınarak ulaşılabilir?

- A) 14
- B) 18
- C) 22
- D) 26
- E) 28


18.




Şekildeki levhalarda beyaz kareler şeffaftır, siyah kareler ise şeffaf değildir.

Bu üç levha döndürülmeden üst üste konulduğunda aşağıdakilerden hangisi elde edilir?


A)




B)




C)



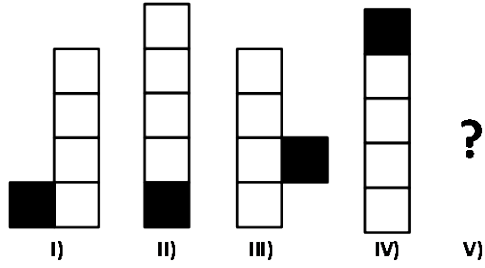
D)



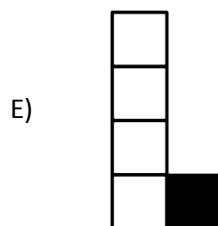
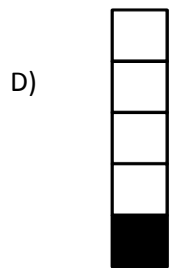
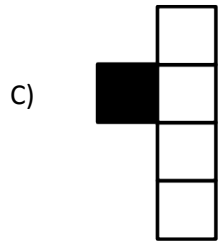
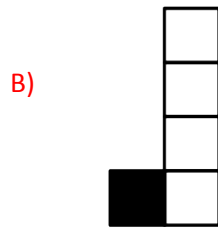
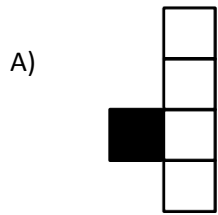
E)



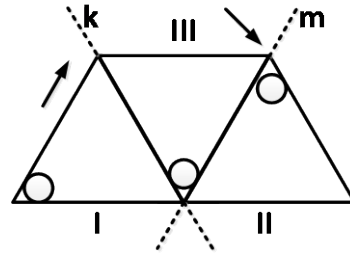
19.



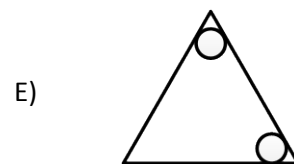
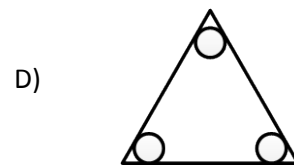
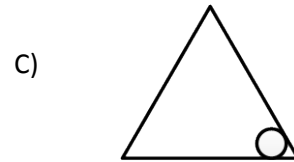
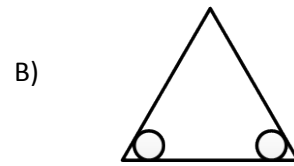
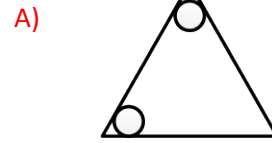
Yukarıdaki şekillerden her biri bir önceki şekilden bir kurala göre elde edilmiştir. Buna göre, soru işaretinin yerine aşağıdakilerden hangisi getirilmelidir?



20.



Yukarıdaki saydam şekil önce k, sonra m ekseninden ok işaretleri yönüne katlandığında, aşağıdakilerden hangisi elde edilir?




21.

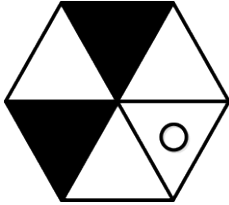


Yukarıdaki şekil saat yönünde 240 derece döndürülürse aşağıdaki şekillerden hangisi oluşur?

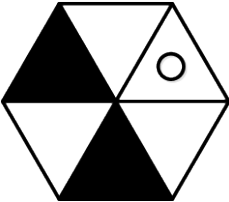
A)



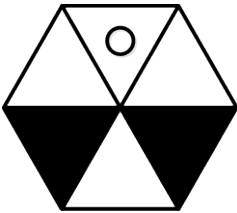
B)



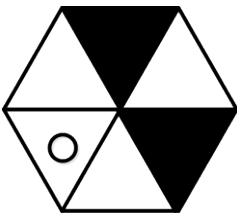
C)



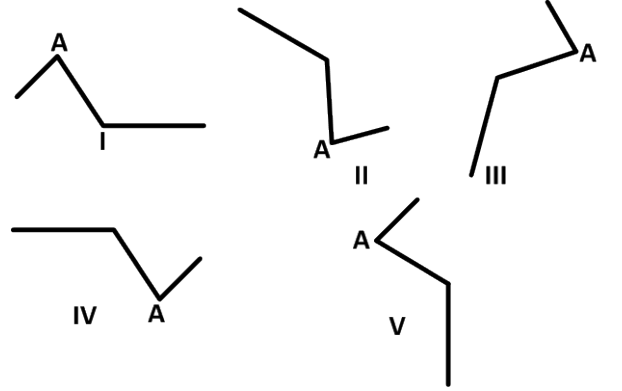
D)



E)



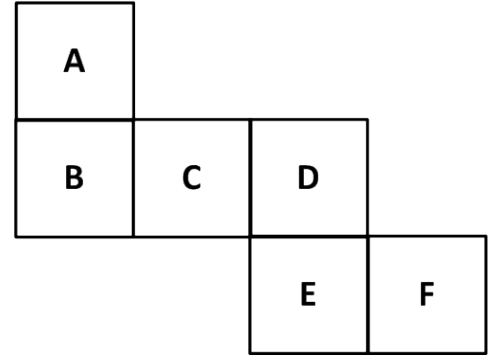
22.



Yukarıdaki şekillerden farklı olan hangisidir?

- A) I
- B) II
- C) III
- D) IV
- E) V

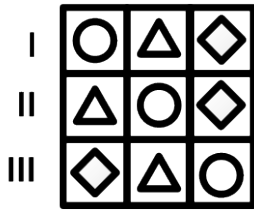
23.



Yukarıdaki şekilde bir küpün açılımı verilmiştir. Buna göre aşağıdaki verilen yüzeylerin hangileri birbirine paraleldir?

- A) A – D
- B) F – C
- C) B – C
- D) A – F
- E) D – F

24.



Yukarıdaki şekil matrisinde her şekil farklı bir rakamı göstermektedir. Buna göre bu şekil hangi sayı grubu ile şifrelenmiştir?

A)

I	3	5	2
II	3	5	2
III	2	3	5

B)

I	4	5	3
II	2	4	2
III	2	5	4

C)

I	5	4	2
II	4	5	2
III	2	4	5

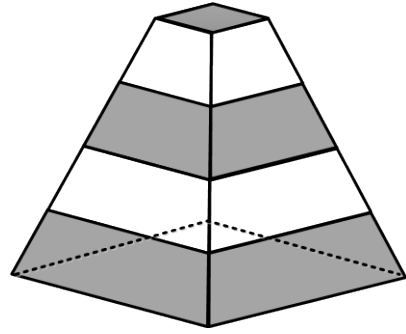
D)

I	5	5	4
II	3	4	3
III	3	5	4


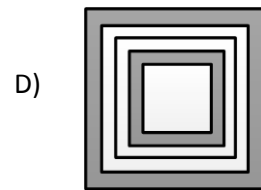
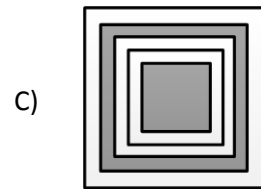
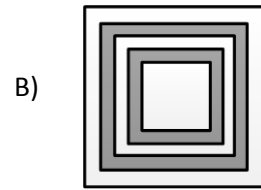

E)

I	5	4	3
II	3	5	4
III	4	3	5

25.



Yukarıdaki şeklin tepeden kuş bakışı görünüşü aşağıdakilerden hangisidir?



Görsel Yetenek Testi Sona Erdi

DAÜ LİSANS ve ÖNLİSANS PROGRAMLARI

DR. FAZIL KÜÇÜK TIP FAKÜLTESİ					
Program Kodu	Program	Program Türü	Öğrenim Süresi	Eğitim Dili	Puan Türü
090	Marmara Üniversitesi – Doğu Akdeniz Üniversitesi Uluslararası Ortak Tıp Programı	Lisans	6 (*)	İngilizce	MF

(*) Öğrenimin ilk üç yılı Doğu Akdeniz Üniversitesi'nde, son üç yılı Marmara Üniversitesi'nde yapılacaktır.

ECZACILIK FAKÜLTESİ					
Program Kodu	Program	Program Türü	Öğrenim Süresi	Eğitim Dili	Puan Türü
080	Eczacılık	Lisans	5	İngilizce	MF

EĞİTİM FAKÜLTESİ					
Program Kodu	Program	Program Türü	Öğrenim Süresi	Eğitim Dili	Puan Türü
101	Bilgisayar ve Öğretim Teknolojileri Öğretmenliği	Lisans	4	Türkçe	MF
102	İngilizce Öğretmenliği	Lisans	4	İngilizce	İD
103	Müzik Öğretmenliği	Lisans	4	Türkçe	MY
104	Okul Öncesi Öğretmenliği	Lisans	4	Türkçe	TM
105	Rehberlik ve Psikolojik Danışmanlık	Lisans	4	Türkçe	TM
106	Rehberlik ve Psikolojik Danışmanlık	Lisans	4	İngilizce	TM
107	Sosyal Bilgiler Öğretmenliği	Lisans	4	Türkçe	TS
108	Türkçe Öğretmenliği	Lisans	4	Türkçe	TS
109	Zihin Engelliler Öğretmenliği	Lisans	4	Türkçe	TS

FEN VE EDEBİYAT FAKÜLTESİ					
Program Kodu	Program	Program Türü	Öğrenim Süresi	Eğitim Dili	Puan Türü
201	Matematik ve Bilgisayar Bilimleri	Lisans	4	İngilizce	MF
202	Moleküler Biyoloji ve Genetik	Lisans	4	İngilizce	MF
203	Mütercim Tercümanlık	Lisans	4	İngilizce	İD
204	Psikoloji	Lisans	4	İngilizce	TM
205	Psikoloji	Lisans	4	Türkçe	TM
206	Türk Dili ve Edebiyatı	Lisans	4	Türkçe	TS

HUKUK FAKÜLTESİ					
Program Kodu	Program	Program Türü	Öğrenim Süresi	Eğitim Dili	Puan Türü
301	Hukuk	Lisans	4	Türkçe	TM

İLETİŞİM FAKÜLTESİ					
Program Kodu	Program	Program Türü	Öğrenim Süresi	Eğitim Dili	Puan Türü
401	Gazetecilik	Lisans	4	Türkçe	TS
402	Görsel Sanatlar ve Görsel İletişim Tasarımı	Lisans	4	İngilizce	GY-2
403	Halkla İlişkiler ve Reklamcılık	Lisans	4	İngilizce	TS
404	Halkla İlişkiler ve Reklamcılık	Lisans	4	Türkçe	TS
405	Radio – TV ve Sinema	Lisans	4	İngilizce	TS
406	Radio – TV ve Sinema	Lisans	4	Türkçe	TS
407	Animasyon ve Oyun Tasarımı	Lisans	4	İngilizce	GY-2

İŞLETME VE EKONOMİ FAKÜLTESİ					
Program Kodu	Program	Program Türü	Öğrenim Süresi	Eğitim Dili	Puan Türü
501	İktisat	Lisans	4	İngilizce	TM
502	İşletme	Lisans	4	İngilizce	TM
503	İşletme	Lisans	4	Türkçe	TM
504	Kamu Yönetimi	Lisans	4	İngilizce	TM
505	Siyaset Bilimi	Lisans	4	İngilizce	TM
506	Uluslararası İlişkiler	Lisans	4	İngilizce	TM

DAÜ LİSANS ve ÖNLİSANS PROGRAMLARI (önceki sayfadan devam)

MİMARLIK FAKÜLTESİ					
Program Kodu	Program	Program Türü	Öğrenim Süresi	Eğitim Dili	Puan Türü
601	Mimarlık	Lisans	4	İngilizce	MF
602	İç Mimarlık	Lisans	4	İngilizce	GY-1
603	İç Mimarlık	Lisans	4	Türkçe	GY-1

MÜHENDİSLİK FAKÜLTESİ					
Program Kodu	Program	Program Türü	Öğrenim Süresi	Eğitim Dili	Puan Türü
701	Bilgisayar Mühendisliği	Lisans	4	İngilizce	MF
702	Bilgisayar Mühendisliği	Lisans	4	Türkçe	MF
703	Bilişim Sistemleri Mühendisliği	Lisans	4	İngilizce	MF
704	Elektrik ve Elektronik Mühendisliği	Lisans	4	İngilizce	MF
705	Endüstri Mühendisliği	Lisans	4	İngilizce	MF
706	İnşaat Mühendisliği	Lisans	4	İngilizce	MF
707	İnşaat Mühendisliği	Lisans	4	Türkçe	MF
708	İşletme Mühendisliği	Lisans	4	İngilizce	MF
709	Makine Mühendisliği	Lisans	4	İngilizce	MF
710	Mekatronik Mühendisliği	Lisans	4	İngilizce	MF
711	Yazılım Mühendisliği	Lisans	4	İngilizce	MF

SAĞLIK BİLİMLERİ FAKÜLTESİ					
Program Kodu	Program	Program Türü	Öğrenim Süresi	Eğitim Dili	Puan Türü
001	Beslenme ve Diyetetik	Lisans	4	Türkçe	MF
002	Fizyoterapi ve Rehabilitasyon	Lisans	4	Türkçe	MF
003	Sağlık Yönetimi	Lisans	4	Türkçe	TM
004	Spor Bilimleri	Lisans	4	Türkçe	SY
005	Beslenme	Lisans	4	İngilizce	MF
006	Fizyoterapi ve Rehabilitasyon	Lisans	4	İngilizce	MF

ADALET MESLEK YÜKSEK OKULU					
Program Kodu	Program	Program Türü	Öğrenim Süresi	Eğitim Dili	Puan Türü
302	Adalet	Önlisans	2	Türkçe	TM

BİLGİSAYAR VE TEKNOLOJİ YÜKSEK OKULU					
Program Kodu	Program	Program Türü	Öğrenim Süresi	Eğitim Dili	Puan Türü
801	Bilgisayar Teknolojisi ve Bilişim Sistemleri	Lisans	4	İngilizce	MF
802	Bilgisayar Programcılığı	Önlisans	2	Türkçe	MF
803	Biyomedikal Cihaz Teknolojisi	Önlisans	2	Türkçe	MF
804	Elektrik ve Elektronik Teknolojisi	Önlisans	2	Türkçe	MF
805	Harita ve Kadastro	Önlisans	2	Türkçe	MF
806	İnşaat Teknolojisi	Önlisans	2	Türkçe	MF
807	Muhasebe ve Vergi Uygulamaları	Önlisans	2	Türkçe	TM
808	Tıbbi Dökümantasyon ve Sekreterlik	Önlisans	2	Türkçe	TS

İŞLETME VE FİNANS YÜKSEK OKULU					
Program Kodu	Program	Program Türü	Öğrenim Süresi	Eğitim Dili	Puan Türü
507	Bankacılık ve Finans	Lisans	4	İngilizce	TM
508	Bankacılık ve Sigortacılık	Lisans	4	İngilizce	TM
509	İnsan Kaynakları Yönetimi	Lisans	4	İngilizce	TM
510	Pazarlama	Lisans	4	İngilizce	TM
511	Uluslararası Ticaret ve İşletmecilik	Lisans	4	İngilizce	TM
512	Uluslararası Ticaret ve İşletmecilik	Lisans	4	Türkçe	TM
513	Uluslararası Finans	Lisans	4	İngilizce	TM
514	Yönetim Bilişim Sistemleri	Lisans	4	İngilizce	TM

DAÜ LİSANS ve ÖNLİSANS PROGRAMLARI (önceki sayfadan devam)

SAĞLIK HİZMETLERİ YÜKSEK OKULU					
Program Kodu	Program	Program Türü	Öğrenim Süresi	Eğitim Dili	Puan Türü
008	Hemşirelik	Lisans	4	Türkçe	MF
009	Ağız ve Diş Sağlığı	Önlisans	2	Türkçe	MF
010	Ameliyathane Hizmetleri	Önlisans	2	Türkçe	MF
011	Anestezi	Önlisans	2	Türkçe	MF
012	Diyaliz	Önlisans	2	Türkçe	MF
013	Fizyoterapi	Önlisans	2	Türkçe	MF
014	İlk ve Acil Yardım	Önlisans	2	Türkçe	MF
015	Radyoterapi	Önlisans	2	Türkçe	MF
016	Tıbbi Görüntüleme Teknikleri	Önlisans	2	Türkçe	MF
017	Yaşlı Bakımı	Önlisans	2	Türkçe	TS

TURİZM VE OTELCİLİK YÜKSEK OKULU					
Program Kodu	Program	Program Türü	Öğrenim Süresi	Eğitim Dili	Puan Türü
901	Turizm ve Otel İşletmeciliği	Lisans	4	İngilizce	TM
902	Gastronomi ve Mutfak Sanatları	Lisans	4	Türkçe	TS
903	Turizm ve Otelcilik	Önlisans	2	İngilizce	TM
904	Aşçılık	Önlisans	2	Türkçe	TS

PUAN TÜRLERİ VE TEST AĞIRLIKLARI

Testler / Puan Türü		Lisans / Önlisans Programları Puan Türleri							
		MF	TM	TS	İD	GY-1	GY-2	SY	MY
Temel Testler	Matematik Testi	35%	35%	20%	10%	20%	5%	5%	5%
	Fen Bilimleri Testi	35%	10%	10%	5%	10%	5%	5%	5%
	Türkçe Testi	20%	35%	35%	30%	20%	20%	20%	20%
	Sosyal Bilimler Testi	10%	20%	35%	15%	10%	20%	20%	20%
Alan Testleri	İngilizce Dil Testi				40%				
	Görsel Yetenek Testi					40%	50%		
Özel Yetenek Sınavları									
Müzik Yetenek Sınavı									50%
Spor Yetenek Sınavı								50%	

MF: Matematik – Fen Bilimleri Puanı

TS: Türkçe – Sosyal Bilimler Puanı

GY-1: Görsel Yetenek – 1 Puanı

SY: Spor Puanı

TM: Türkçe – Matematik Puanı

İD: İngilizce Dil Puanı

GY-2: Görsel Yetenek – 2 Puanı

MY: Müzik Puanı